



Varjokuvat ovat pieninä palasina ja ihan sekaisin. Selvitä, mitä kuva esittää piirtämällä numeroita vastaavat palat tyhjiin ruudukkoon.




| | | |
|----|----|----|
| 1 | 2 | 3 |
| 4 | 5 | 6 |
| 7 | 8 | 9 |
| 10 | 11 | 12 |




| | | |
|----|----|----|
| 1 | 2 | 3 |
| 4 | 5 | 6 |
| 7 | 8 | 9 |
| 10 | 11 | 12 |

Varjokuvat ovat pieninä palasina ja ihan sekaisin. Selvitä, mitä kuva esittää piirtämällä numeroita vastaavat palat tyhjiin ruudukkoon.




| | | | | | |
|----|----|----|----|----|----|
| 1 | 2 | 3 | 4 | 5 | 6 |
| 7 | 8 | 9 | 10 | 11 | 12 |
| 13 | 14 | 15 | 16 | 17 | 18 |
| 19 | 20 | 21 | 22 | 23 | 24 |

Varjokuvat ovat pieninä palasina ja ihan sekaisin. Selvitä, mitä kuva esittää piirtämällä numeroita vastaavat palat tyhjiin ruudukkoon.




| | | | | | |
|----|----|----|----|----|----|
| 1 | 2 | 3 | 4 | 5 | 6 |
| 7 | 8 | 9 | 10 | 11 | 12 |
| 13 | 14 | 15 | 16 | 17 | 18 |
| 19 | 20 | 21 | 22 | 23 | 24 |

Varjokuvat ovat pieninä palasina ja ihan sekaisin. Selvitä, mitä kuva esittää piirtämällä numeroita vastaavat palat tyhjiin ruudukkoon.




| | | | | | |
|----|----|----|----|----|----|
| 1 | 2 | 3 | 4 | 5 | 6 |
| 7 | 8 | 9 | 10 | 11 | 12 |
| 13 | 14 | 15 | 16 | 17 | 18 |
| 19 | 20 | 21 | 22 | 23 | 24 |

Varjokuvat ovat pieninä palasina ja ihan sekaisin. Selvitä, mitä kuva esittää piirtämällä numeroita vastaavat palat tyhjään ruudukkoon.




| | | | | | |
|----|----|----|----|----|----|
| 1 | 2 | 3 | 4 | 5 | 6 |
| 7 | 8 | 9 | 10 | 11 | 12 |
| 13 | 14 | 15 | 16 | 17 | 18 |
| 19 | 20 | 21 | 22 | 23 | 24 |

Varjokuvat ovat pieninä palasina ja ihan sekaisin. Selvitä, mitä kuva esittää piirtämällä numeroita vastaavat palat tyhjiin ruudukkoon.




| | | | | | |
|----|----|----|----|----|----|
| 1 | 2 | 3 | 4 | 5 | 6 |
| 7 | 8 | 9 | 10 | 11 | 12 |
| 13 | 14 | 15 | 16 | 17 | 18 |
| 19 | 20 | 21 | 22 | 23 | 24 |

Varjokuvat ovat pieninä palasina ja ihan sekaisin. Selvitä, mitä kuva esittää piirtämällä numeroita vastaavat palat tyhjiin ruudukkoon.




| | | | | | |
|----|----|----|----|----|----|
| 1 | 2 | 3 | 4 | 5 | 6 |
| 7 | 8 | 9 | 10 | 11 | 12 |
| 13 | 14 | 15 | 16 | 17 | 18 |
| 19 | 20 | 21 | 22 | 23 | 24 |

Varjokuvat ovat pieninä palasina ja ihan sekaisin. Selvitä, mitä kuva esittää piirtämällä numeroita vastaavat palat tyhjiin ruudukkoon.



| | | | | | |
|----|----|----|----|----|----|
| 1 | 2 | 3 | 4 | 5 | 6 |
| 7 | 8 | 9 | 10 | 11 | 12 |
| 13 | 14 | 15 | 16 | 17 | 18 |
| 19 | 20 | 21 | 22 | 23 | 24 |

Varjokuvat ovat pieninä palasina ja ihan sekaisin. Selvitä, mitä kuva esittää piirtämällä numeroita vastaavat palat tyhjiin ruudukkoon.



| | | | | | |
|----|----|----|----|----|----|
| 1 | 2 | 3 | 4 | 5 | 6 |
| 7 | 8 | 9 | 10 | 11 | 12 |
| 13 | 14 | 15 | 16 | 17 | 18 |
| 19 | 20 | 21 | 22 | 23 | 24 |